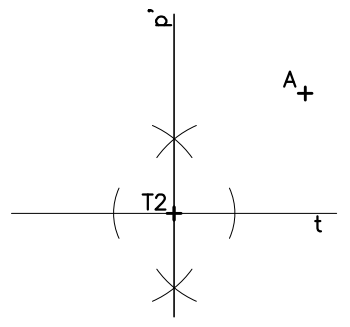
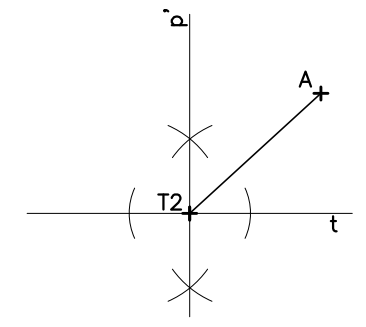


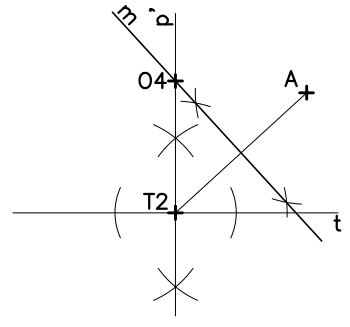
① DATOS:
 recta t
 punto T2 perteneciente a t
 punto A exterior a la recta t



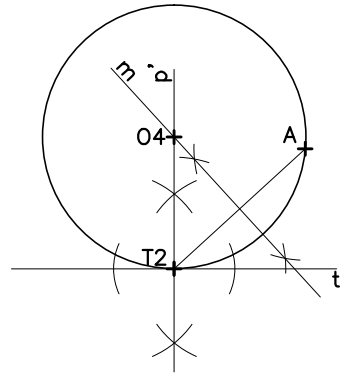
② trazamos la recta p' perpendicular a la recta t en el punto T2.



③ trazamos el segmento T2A

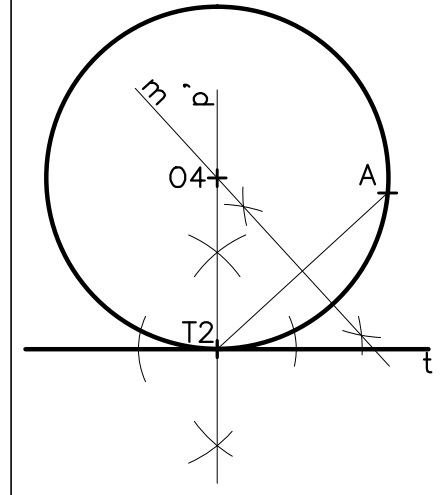


④ trazamos la mediatriz m del segmento T2A, y designamos el punto O4 intersección de las rectas p' y m.

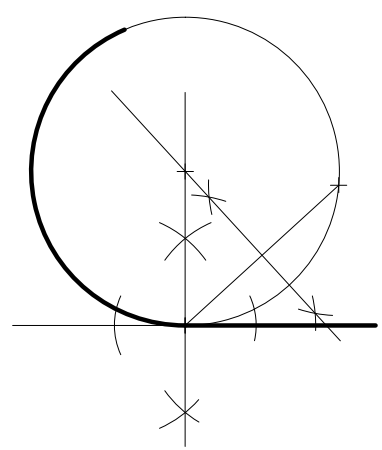


⑤ trazamos la circunferencia C4 con centro en O4, y radio en el punto A o T2.

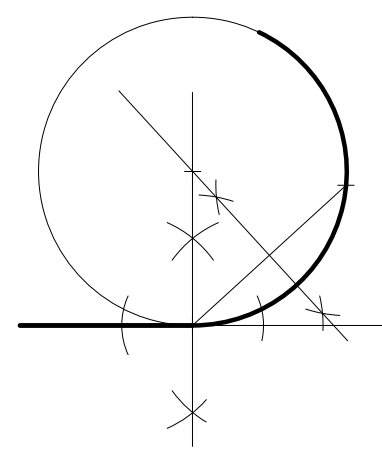
TANGENCIA



EMPALME O ENLACE



SOLUCIÓN 1



SOLUCIÓN 2