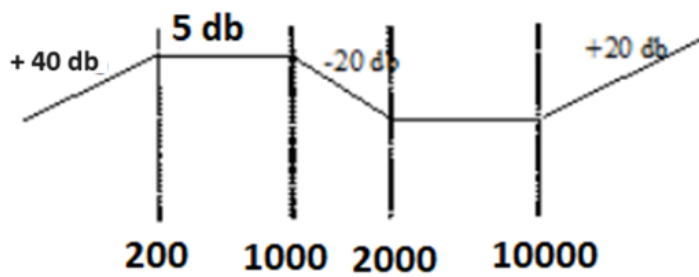


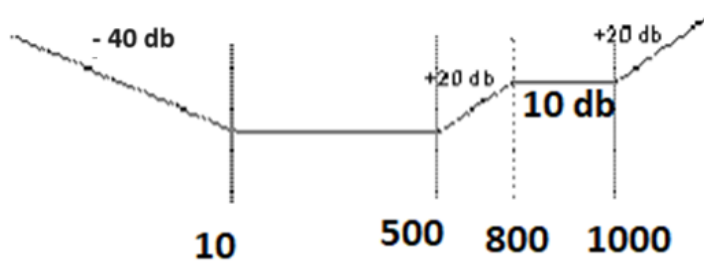
EJERCICIOS ADICIONALES

1) Determine la estabilidad de los Sistemas de Control con respuesta en frecuencia dada en los esquemas siguientes.

a)



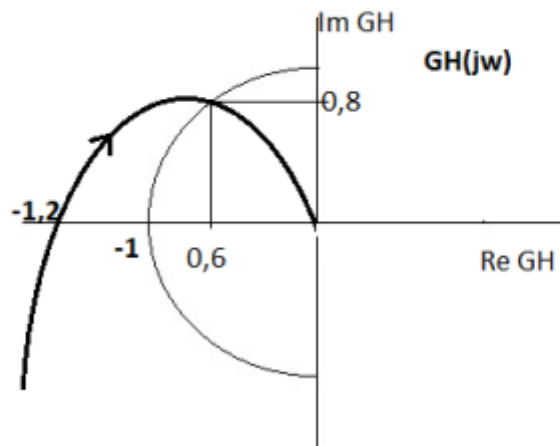
b)



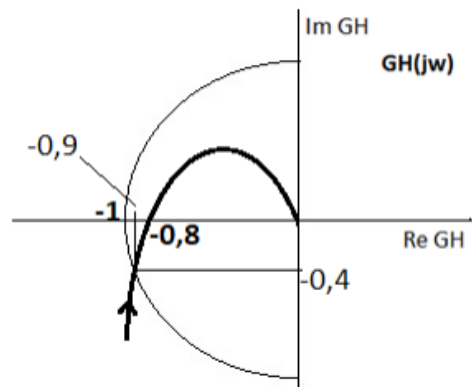
INSTALACIONES Y CONTROL
ADICIONALE TP N°16-17

2) Calcule el MG y MF de los siguientes esquemas de Respuesta en Frecuencia e indique si el Sistema de Lazo Cerrado es Estable ó Inestable.

a)



b)



c)

